

Serie 22: Symmetrische Bilinearformen & quadratische Formen

1. a) Sei $A = \begin{pmatrix} 5 & 2 \\ 2 & 5 \end{pmatrix} \in M_{2 \times 2}(\mathbb{R})$ und sei $\beta : \mathbb{R}^2 \times \mathbb{R}^2 \rightarrow \mathbb{R}$ gegeben durch

$$\beta(u, v) := u^T A v \quad (u, v \in \mathbb{R}^2).$$

Bestimmen Sie eine geordnete Basis \mathcal{B} von \mathbb{R}^2 , sodass β bezüglich \mathcal{B} eine Darstellungsmatrix der Form $\begin{pmatrix} \pm 1 & 0 \\ 0 & \pm 1 \end{pmatrix}$ besitzt.

- b) Diagonalisieren Sie die zur symmetrischen reellen Matrix A gehörige Bilinearform, wobei

$$A = \begin{pmatrix} 3 & -2 & 2 \\ -2 & 3 & -2 \\ 2 & -2 & 3 \end{pmatrix},$$

d.h. finden Sie eine Matrix $Q \in GL_3(\mathbb{R})$, sodass $Q^T A Q$ eine Diagonalmatrix ist. Zeigen Sie auf zwei Arten, dass die zugehörige Bilinearform positiv definit ist.

2. Bestimmen Sie die Quadriken in \mathbb{R}^3 .

3. Sei V ein endlichdimensionaler Vektorraum über einem Körper \mathbb{K} , in dem $2 \neq 0$ gilt, und sei $Q : V \rightarrow \mathbb{K}$.

- a) Zeigen Sie, dass (i) und (ii) äquivalent sind:

(i) Es gelten:

- I. $Q(\lambda v) = \lambda^2 Q(v)$ für alle $v \in V$ und für alle $\lambda \in \mathbb{K}$, d.h. Q ist homogen vom Grad 2.

Bitte wenden!

II. Die Abbildung $\beta_Q : V \times V \rightarrow \mathbb{K}$,

$$\beta_Q(v, w) := \frac{1}{2}(Q(v+w) - Q(v) - Q(w)),$$

ist bilinear.

- (ii) Es existiert eine Basis \mathcal{B} von V und eine symmetrische Matrix $A \in M_{n \times n}(\mathbb{K})$, sodass gilt

$$\forall v \in V : Q(v) = [v]_{\mathcal{B}}^T A [v]_{\mathcal{B}}.$$

Bemerkung: Im Folgenden bezeichnen wir mit einer quadratischen Form auf V eine Abbildung $Q : V \rightarrow \mathbb{K}$, die eine dieser äquivalenten Eigenschaften erfüllt.

- b) Zeigen Sie, dass die Menge der quadratischen Formen auf V ein Unterraum von $\text{Abb}(V, \mathbb{K})$ ist und dass die Abbildung $Q \mapsto \beta_Q$ einen Isomorphismus zwischen dem Vektorraum der quadratischen Formen auf V und dem Vektorraum der symmetrischen Bilinearformen auf $V \times V$ definiert.

4. Sei V ein endlichdimensionaler \mathbb{K} -Vektorraum und in \mathbb{K} gelte $2 \neq 0$ und sei $\beta : V \times V \rightarrow \mathbb{K}$ eine symmetrische Bilinearform. Ein Unterraum $W \subseteq V$ heisst nicht ausgeartet, falls $\beta|_{W \times W}$ nicht ausgeartet ist (vgl. Serie 21).

- a) Sei $W \subseteq V$ ein Unterraum und definiere

$$W^\beta := \{v \in V \mid \forall w \in W : \beta(v, w) = 0\}.$$

Zeigen Sie, dass $V = W \oplus W^\beta$ genau dann gilt, wenn W ein nicht ausgearteter Unterraum ist.

- b) Sei β nicht-ausgeartet. Zeigen Sie mittels Induktion über $\dim(V)$, dass eine Basis $\mathcal{B} = (v_1, \dots, v_n)$ von V existiert, sodass $\beta(v_i, v_j) = 0$ genau dann, wenn $i \neq j$.

Bemerkung: V besitzt also eine "orthogonale" Basis bezüglich β . Im Allgemeinen können wir nicht annehmen, dass $\beta(v_i, v_j) = \pm \delta_{ij}$ (Orthonormalität), da für allgemeine Körper \mathbb{K} sowohl $\sqrt{\beta(v_i, v_i)} \notin \mathbb{K}$ als auch $\sqrt{-\beta(v_i, v_i)} \notin \mathbb{K}$ gelten kann.

5. a) Seien $A, B \in M_{n \times n}(\mathbb{R})$ symmetrisch, positiv definit, sodass $AB = BA$ gilt. Zeigen Sie, dass AB positiv definit ist.

- ♡ b) Sei $(V, \langle \cdot, \cdot \rangle)$ ein Euklidischer Vektorraum. Sei $T \in \text{End}(V)$ und definiere die Abbildung $\beta_T : V \times V \rightarrow \mathbb{R}$ durch $\beta_T(v, w) := \langle v, Tw \rangle$.

(i) Zeigen Sie, dass β_T bilinear ist.

(ii) Zeigen Sie, dass β_T genau dann symmetrisch ist, wenn T selbstadjungiert ist.

(iii) Sei V endlichdimensional. Zeigen Sie, dass β_T genau dann ein inneres Produkt ist, wenn T selbstadjungiert ist und eine Basis \mathcal{B} von V existiert, sodass $[T]_{\mathcal{B}}$ symmetrisch und positiv definit ist.

Siehe nächstes Blatt!

6. Online-Abgabe

1. Sei \mathbb{K} ein Körper und $A \in M_{n \times n}(\mathbb{K})$ symmetrisch, dann ist A kongruent zu einer Diagonalmatrix.

- (a) Richtig.
- (b) Falsch.

2. Sei $A \in M_{n \times n}(\mathbb{R})$ symmetrisch, sodass $A_{ij} > 0$ für alle $1 \leq i, j \leq n$. Dann ist A positiv definit.

- (a) Richtig.
- (b) Falsch.

3. Sei $A \in M_{n \times n}(\mathbb{R})$ symmetrisch, positiv definit. Welche der folgenden Aussagen ist richtig?

- (a) A^2 ist positiv definit.
- (b) A^{-1} ist positiv definit.
- (c) Keine der Aussagen ist richtig.

4. Sei $A \in M_{n \times n}(\mathbb{K})$ eine Diagonalmatrix. Dann ist A kongruent zu jeder anderen Diagonalmatrix, mit denselben Diagonaleinträgen (bis auf Permutation der Indizes).

- (a) Richtig.
- (b) Falsch.

Bitte wenden!

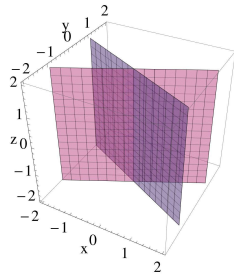
5. Sei β die Bilinearform auf \mathbb{R}^3 gegeben durch

$$\beta((x, y, z), (x', y', z')) = xx' - 4yy'.$$

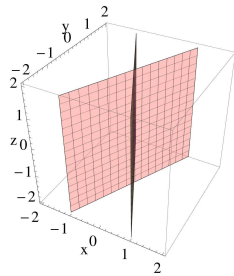
Sei Q die durch β induzierte quadratische Form auf \mathbb{R}^3 , d.h. $Q(v) = \beta(v, v)$. Welches der folgenden Bilder gibt eine Darstellung der Quadrik

$$X_{Q,0} = \{v \in \mathbb{R}^3 \mid Q(v) = 0\}?$$

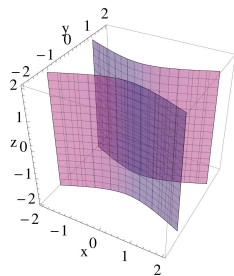
(a) 1



(b) 2



(c) 3



Siehe nächstes Blatt!

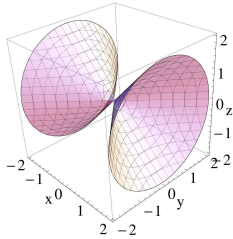
6. Sei β die Bilinearform auf \mathbb{R}^3 gegeben durch

$$\beta((x, y, z), (x', y', z')) = xx' + yy' - zz'.$$

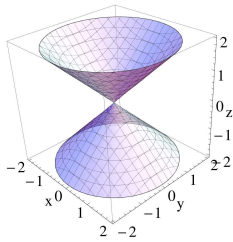
Sei Q die durch β induzierte quadratische Form. Welches der folgenden Bilder gibt eine Darstellung der Quadrik

$$X_{Q,0} = \{v \in \mathbb{R}^3 \mid Q(v) = 0\}?$$

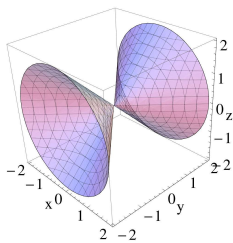
(a) 1



(b) 2



(c) 3



Bitte wenden!

7. Sei \mathbb{K} ein Körper. Betrachte auf \mathbb{K}^2 die quadratische Form $Q(x, y) = x^2 - 2y^2$. Dann existiert eine Basis \mathcal{B} von \mathbb{K}^2 , sodass für die Koordinaten (\tilde{x}, \tilde{y}) von (x, y) bezüglich \mathcal{B} gilt:

- (a) $Q(x, y) = \tilde{x}^2 - \tilde{y}^2$, für $\mathbb{K} = \mathbb{Q}$?
- (b) $Q(x, y) = \tilde{x}^2 - \tilde{y}^2$, für $\mathbb{K} = \mathbb{R}$?
- (c) $Q(x, y) = \tilde{x}^2 + \tilde{y}^2$, für $\mathbb{K} = \mathbb{R}$?
- (d) $Q(x, y) = \tilde{x}^2 - \tilde{y}^2$, für $\mathbb{K} = \mathbb{C}$?
- (e) $Q(x, y) = \tilde{x}^2 + \tilde{y}^2$, für $\mathbb{K} = \mathbb{C}$?

8. Sei \mathbb{K} ein Körper. Betrachte auf \mathbb{K}^2 die quadratische Form $Q(x, y) = xy$. Dann existiert eine Basis \mathcal{B} , sodass für die Koordinaten (\tilde{x}, \tilde{y}) von (x, y) bezüglich \mathcal{B} gilt

- (a) $Q(x, y) = \tilde{x}^2 - \tilde{y}^2$, für $\mathbb{K} = \mathbb{R}$?
- (b) $Q(x, y) = \tilde{x}^2 + \tilde{y}^2$, für $\mathbb{K} = \mathbb{R}$?
- (c) $Q(x, y) = \tilde{x}^2 - \tilde{y}^2$, für $\mathbb{K} = \mathbb{C}$?
- (d) $Q(x, y) = \tilde{x}^2 + \tilde{y}^2$, für $\mathbb{K} = \mathbb{C}$?

9. Prüfung Winter 2018: Jede Bilinearform auf einem reellen Vektorraum definiert ein inneres Produkt.

- (a) Wahr.
- (b) Falsch.

10. Prüfung Winter 2018: Jedes innere Produkt auf einem reellen Vektorraum definiert eine Bilinearform.

- (a) Wahr.
- (b) Falsch.

Siehe nächstes Blatt!

11. Prüfung Winter 2018: Sei $A \in M_{n \times n}(\mathbb{R})$ symmetrisch und positiv definit. Dann ist $\text{tr}(A) > 0$.

- (a) Wahr.
- (b) Falsch.

12. Prüfung Winter 2018: Sei $A \in M_{n \times n}(\mathbb{R})$ symmetrisch und positiv definit. Dann ist A^{-1} auch positiv definit.

- (a) Wahr.
- (b) Falsch.

13. Prüfung Sommer 2017: Sei Q eine quadratische Form auf \mathbb{R}^n . Die Darstellungsmatrix von Q ist genau dann invertierbar, wenn sie positiv oder negativ definit ist.

- (a) Wahr.
- (b) Falsch.

14. Prüfung Sommer 2017: Seien $A, B \in M_{n \times n}(\mathbb{R})$ symmetrisch, positiv definit. Dann ist $A + B$ positiv definit.

- (a) Wahr.
- (b) Falsch.

15. Prüfung Sommer 2017: Sei V ein endlichdimensionaler \mathbb{K} -Vektorraum und sei β eine nicht ausgeartete symmetrische Bilinearform auf V . Dann ist die Abbildung $V \mapsto V^*, v \mapsto \beta(v, \cdot)$ ein Isomorphismus.

- (a) Wahr.
- (b) Falsch.

Bitte wenden!

16. Die Abbildung

$$\mathbb{R}^n \rightarrow \mathbb{R}, v \mapsto \|v\|_\infty^2 = \max\{|v_i|; 1 \leq i \leq n\}^2$$

ist eine quadratische Form auf \mathbb{R}^n .

- (a) Wahr.
- (b) Falsch.

Abgabe der schriftlichen Aufgaben: Donnerstag, den 19. April, vor 14:30 Uhr im HG J 68 in einem der Fächer beschriftet mit Abgabe.